

Sınav Hazırlık İçin Ders Notu

EXCEL SORULARI

1. Microsoft Excel uygulamasını başlatmanın yolu aşağıdakilerden hangisidir?

- a. Başlat – Programlar
- b. Başlat Ayarlar
- c. Başlat – Programlar – Donatılar
- d. Başla- Ayarlar- Denetim Masası

2. Dosya - Baskı önizleme komutunun görevi nedir?

- a. Dosyayı yazdırır
- b. Dosyayı yazıcıya göndermeden önce halini ekrana yansıtır.
- c. Grafik Çizer
- d. Dosyayı siler

3. Aşağıdaki seçeneklerden hangisinde hücre adresi doğru olarak yazılmıştır?

- a. A1
- b. AB
- c. 1A
- d. A

4. Aşağıdakilerden hangisi hücreye girilen bilginin yerleştirilmesini sağlamaz?

- a. Enter
- b. Yön tuşları
- c. Formül çubuğundaki onay düğmesi
- d. Esc

5. Dosya – Sayfa Yapısı ne işe yarar?

- a. Sayfadaki satır yüksekliğini ayarlar
- b. Sayfadaki sütun genişliğini ayarlar
- c. Sayfanın kenar boşlukları, üst-alt bilgi, yazdırma seçeneklerini ayarlar
- d. Çalışma kitabındaki sayfa sayısını ayarlar.

6. Excel programı hangi yazılım kategorisine girer?

- a. Kelime işlemci
- b. Tablo / Grafik
- c. Ticari program
- d. Eğitim programı

7. Bir Excel Çalışma Sayfası kaç sütun ve satırdan oluşmaktadır.

- a. 255 sütun - 65536 satır
- b. 256 sütun – 65535 satır
- c. 256 sütun – 65536 satır
- d. 255 sütun – 65535 satır











8. Aşağıdaki komutlardan hangisi Dosya menüsünde bulunmaz?

- a. 
- b. 
- c. 
- d. 






9. Aşağıdaki komutlardan hangisi Dosya menüsünde yer alır.

- a. Farklı Kaydet
- b. Kes
- c. Sütun
- d. Veri

Sınav Hazırlık İçin Ders Notu EXCEL SORULARI

10.  Simgenin görevi aşağıdaki seçeneklerin hangisinde doğru olarak verilmiştir.
- a. Dosya Kaydı yapar
b. Dosya Siler
c. Dosya Açar
d. Yeni Sayfa Açar
11. Dosya Menüsünde yer alan Yazdır Komutunun simgesi aşağıdakilerden hangisinde doğru olarak verilmiştir.
- a.  b.  c.  d. 
12. Daha önce yazdığımız bir dosyayı ekrana getirmek için hangi yol kullanılmalıdır?
- a. Biçim Menüsü – Aç komutu
b. Dosya Menüsü – Yeni komutu
c. Dosya Menüsü – Aç komutu
d. Düzen Menüsü – Kaydet komutu
13. Aşağıdaki kısayollardan hangisi dosya menüsü komutu değildir?
- a. CTRL + P
b. CTRL + V
c. CTRL + O
d. CTRL + S
14. Yazdırma Alanının Belirlemek için hangi menü ve komutu kullanılmalıdır?
- a. Düzen / Yazdırma Alanı Belirle
b. Dosya / Yazdırma Alanı
c. Dosya / Yazdırma Alanı Belirle
d. Ekle / Yazdırma Alanı
15. Daha önce yazılmış bir doküman üzerinde işlem yapıldıktan sonra dosyayı başka bir isimde kaydetmek için hangi kısayol kullanılmalıdır?
- a. CTRL + S
b. CTRL + O
c. CTRL + U
d. F12
16.  Yan taraftaki simgenin görevi aşağıdaki maddelerden hangisinde doğru olarak verilmiştir?
- a. Baskı Öngörü
b. Baskı Önizleme
c. Baskı yapma
d. Baskı İzleme
17. Kaydet komutunun simgesi ve kısa yolu aşağıdaki seçeneklerden hangisinde doğru olarak verilmiştir?
- a.  CTRL + S
b.  CTRL + O
c.  CTRL + S
d.  CTRL + O

Sınav Hazırlık İçin Ders Notu EXCEL SORULARI

18.  Yan tarafta görülen simgeler hangi menüye aittir?
- a. Dosya
b. Düzen
c. Ekle
d. Biçim
19. Excel programı Dosya menüsünde yer alan komutlardan kaç tanesinde klavyeden kullanılmak için kısa yol atanmıştır?
- a. 3
b. 5
c. 4
d. 7
20. Aşağıdaki yazılı maddelerden hangisi Dosya menüsü için geçerli değildir?
- a. Kayıtlı dosyaları açmak
b. Dosyayı yazıcıya göndermek
c. Dosyayı silmek
d. Dosyayı kaydetmek
21. Aşağıdaki komutlardan hangisi Düzen menüsü komutlarından biri değildir?
- a. Kes
b. Kopyala
c. Sayfayı Sil
d. Kaydet
22. Aşağıdaki simgelerden hangisi Düzen menüsüne ait komutlardan birinin simgesi değildir?
- a.  b.  c.  d. 
23. Bul – Değiştir – Git komutları Excel programının hangi menüsünde ait komutlardır?
- a. Düzen
b. Görünüm
c. Dosya
d. Yardım
24. Aşağıda yazılı olan maddelerden hangisi Düzen menüsü komutlarındandır?
- a. Farklı Kaydet
b. Temizle
c. Sütun
d. Sayfa
25. Kopyala komutunun kısa yolu aşağıdaki maddelerden hangisinde doğru olarak verilmiştir?
- a. CTRL + O
b. CTRL + V
c. CTRL + C
d. CTRL + B
26. Aşağıda yazılı maddelerden hangisi Düzen menüsü için söylenemez?
- a. Sayfa Silme, Sayfayı Kaydetme
b. Satır ekleme, Kopyalama yapmak
c. Çalışma Sayfası Silme, Satır Silme
d. Dosya Açma, Yapıştır
27. Düzen Menüsünde kendisine yer bulan Değiştir komutunun kısa yolu aşağıdaki maddelerden hangisinde doğru olarak verilmiştir?
- a. CTRL + H
b. CTRL + F
c. CTRL + X
d. CTRL + U

Sınav Hazırlık İçin Ders Notu EXCEL SORULARI

28. Düzen-Sil-Hücreleri Sola Sürükle komutunun işlevi nedir?

- a. Seçilen hücreler silinir ve altındaki hücreler yukarı kaydırılır.
- b. Seçili hücreler silinir ve sağındaki hücreler sağa kaydırılır.
- c. Seçili hücreler silinir ve sağındaki hücreler aşağı kaydırılır
- d. Seçili hücreler silinir ve sağındaki hücreler sola kaydırılır.

29. Aşağıdaki maddelerden hangisinde Düzen menüsünü kopyala komutunun kısa yolu doğru olarak verilmiştir?



30. İstenilen hücre veya hücre grubunun taşınması için aşağıdakilerden hangisi uygulanır?

- a. Hücreler seçilir Ctrl + C ve istenilen yerde Ctrl + V Tuşlarına basılır
- b. Hücreler seçilir Ctrl + X ve istenilen yerde Ctrl + V Tuşlarına basılır
- c. Hücreler seçilir ve sağ tuş menüsünden Kopyala – Yapıştır
- d. Hücreler seçilir ve düzen menüsünden Kopyala – Yapıştır

31. Aşağıdakilerden hangisi Excel çalışma kitabının dosya uzantısıdır?

- a. BMP
- b. TXT
- c. XLS
- d. XLT



Yan tarafta görülen simge Düzen menüsünde yer alan komutlardan hangisinin kısa yoludur?

- a. Taşı
- b. Kes
- c. Sil
- d. Aktar

33. Hücreye girilen bir formülü düzenleme moduna getirmek için hangi tuş kullanılır?

- a. F2
- b. ESC
- c. TAB
- d. F1

34. Hücre için aşağıdakilerden hangisi doğrudur?

- a. 1-2-3-4 şeklinde satırlardır
- b. A-B-C-D şeklinde sütunlardır
- c. Satır ve sütunların kesiştiği alanlardır
- d. Açıklama yapılan metin kutusudur

35. Düzen – Temizle – İçerik seçeneği için aşağıdakilerden hangisi doğrudur?

- a. Seçili olan hücre ve hücrelerin içindeki değerleri temizler
- b. Seçili olan hücre ve hücrelerin yazı tipi biçimini siler
- c. Seçili olan hücre ve hücrelerin solundaki tüm sütunları siler
- d. Seçili olan hücre ve hücreleri panoya kopyalar

Sınav Hazırlık İçin Ders Notu EXCEL SORULARI

36.  Yan tarafta görülen komutları sırası ile yazınız?

- Kes – Yapıştır – Kopyala – Geri Al
- Kes – Kopyala – Yapıştır – Geri Al
- Yapıştır – Geri Al - Kopyala – Kes
- Kopyala – Kes – Yapıştır – Geri Al

	A	B
1		
2		
3		
4		

37. Yan tarafta ki görüntüde yer alan A ve B sütunları ile 1-2-3 numaralı satırların yer aldığı Excel Çalışma sayfasından bir kesit yer almaktadır. Bu tabloda imleç hangi hücre üzerinde olduğu aşağıdaki maddelerden hangisinde doğru olarak verilmiştir.

- B Sütunu
3. Satır
- 3B Hücresi
- B3 Hücresi

38. Aşağıdaki programların hangisinde grafik oluşturulabilir?

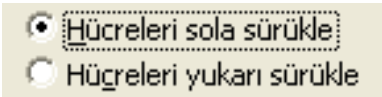
- PowerPoint
- Excel
- Word
- Access

39. CTRL + G kısayol tuşunun görevi aşağıdaki maddelerden hangisinde doğru olarak verilmiştir?

- Seçili hücreyi kopyalar
- Seçili hücreyi keser
- Yapılan işlemi geri alır
- Git Diyalog kutusunu açar

40. Tanımlanan hücreleri silmeden belleğe alan menü ve seçeneği aşağıdakilerden hangisinde doğru olarak verilmiştir?

- Düzen – Kopyala
- Düzen – Sil
- Düzen – Yapıştır
- Düzen – Geri Al



41. Yan tarafta görülen tabloda yer alan iki madde hangi menü ve komutu aittir?

- Düzen – Sayfayı Sil
- Düzen – Sil
- Görünüm – Sil
- Düzen – Temizle

42. CTRL + F kısa yol tuşunun görevi aşağıdaki maddelerden hangisinde doğru olarak verilmiştir?

- Bul
- Bil
- Sil
- Git

43. Çalışma sayfasını silmek için kullanılan menü aşağıdakilerden hangisidir?

- Görünüm
- Düzen
- Dosya
- Tablo

44. Geri Al komutunun kısa yolu aşağıdaki seçeneklerden hangisinde doğru olarak verilmiştir?

- CTRL + Y
- CTRL + Z
- CTRL + V
- CTRL + S

Sınav Hazırlık İçin Ders Notu EXCEL SORULARI

45. Aşağıdaki karşılaştırmalardan hangisi doğrudur?

- a.  Kes Ctrl+X
- b.  Kes Ctrl+V
- c.  Kes Ctrl+X
- d.  Bul... Ctrl+Z

46. Excel Çalışma sayfasına eklenen açıklamaların silinmesi için hangi yol uygulanmalıdır?

- a. Düzen – Sil – Açıklama
c. Düzen – Temizle – Sil
- b. Düzen – Temizle – Açıklama
d. Düzen – Açıklama – Temizle



47. Yan tarafta görülen simgenin klavyeden kısayolu aşağıdakilerden hangisinde doğru olarak verilmiştir.

- a. CTRL + Z
b. CTRL + Y
c. CTRL + G
d. CTRL + X

Bul...	Ctrl+F
Değiştir...	Ctrl+H
Git...	Ctrl+G

48. şekilde görülen komut dizilimleri hangi menüde yer alır?

- a. Ekle
b. Dosya
c. Görünüm
d. Düzen



49. şekilde görülen çubuğunu isme aşağıdaki maddelerden hangisinde doğru olarak verilmiştir.

- a. Hesap Çubuğu
b. Durum Çubuğu
c. Formül Çubuğu
d. Çarpım Çubuğu

50. Excel programına durum çubuğunun görünmesini sağlamak veya kaldırmak için kullanılan menü aşağıdaki maddelerden hangisinde doğru olarak verilmiştir?

- a. Dosya
b. Görünüm
c. Düzen
d. Biçim

51. Her sayfanın üstüne ve her sayfanın altına girilen Üst Bilgi ve Alt Bilgi komutları hangi menüde yer alır?

- a. Görünüm
b. Dosya
c. Ekle
d. Pencere



52. Yan tarafta görülen simge hangi komutu aittir?

Sınav Hazırlık İçin Ders Notu

EXCEL SORULARI


a. Açıklama

b. Formül Çubuğu

c. Üst/Alt Bilgi

d. Durum Çubuğu

%100

53.  şekilde görülen simge hangi komutu temsil eder?

a. Tam Ekran

b. Normal

c. Yakınlaştır

d. Ölçek

54. Aşağıdaki maddelerden hangisi Görünüm menüsüne ait komut dizilimlerini oluşturmaktadır?

a. Formül Çubuğu – Durum Çubuğu – Altbilgi ve Üstbilgi

b. Durum Çubuğu – Tam Ekran – Kopyala

c. Yapıştır – Normal – Sil

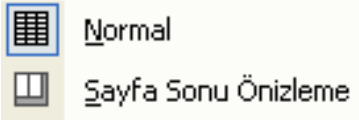
d. Kaydet – Durum Çubuğu – Tam Ekran



Normal



Sayfa Sonu Önizleme

55.  komutları hangi menüye aittir?

a. Düzen

b. Görünüm

c. Dosya

d. Ekle

56. Görünüm Menüsünde yer alan Yakınlaştır komutu ile görünüm en fazla yüzde kaç oranında büyütülebilir.

a. 400

b. 500

c. 250

d. 200



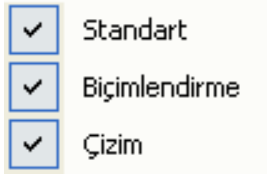
Standart



Biçimlendirme



Çizim

57.  yan tarafta görülen şekilde yer alan simgeler Görünüm Menüsünün hangi komutuna aittir?

a. Tam Ekran

b. Araç Çubukları

c. Yakınlaştır

d. Durum Çubuğu

58. D3 hücresindeki bir ifadeyi E5 hücresine de yazdırmak için yapılması gereken işlem nedir?

a. E5 hücresine tıklayıp yapıştır demek

b. E5 hücresindeyken ekle D3 yazmak

c. A1 hücresindeyken gönder E5 demek

d. E5 hücresine tıklayıp =D3 yazmak

59. Excel yazılım alanında satır ve sütunun kesiştiği yere ne isim verilir?

a. Hücre İçeriği

b. Hücre Adresi

c. Hücre Listesi

d. Hücre Soyadı

60. Aşağıdaki seçeneklerden hangisi Excel program menüsü değildir?

a. Dosya

b. Düzen

c. Kes

d. Araçlar

61. Satır ve Sütun eklemek için aşağıdaki menülerden hangisi kullanılmalıdır?

Sınav Hazırlık İçin Ders Notu EXCEL SORULARI

62. Excel programı çalışma sayfasına satır eklemek için aşağıdaki maddelerden hangisi kullanılmaz?
a. Biçim b. Ekle c. Eklemek d. Tablo

a. Ekle – Satır b. Ekle – Sütun c. Ekle – Satırlar d. Ekle

63. Excel çalışma sayfasına açıklama eklemek için hangi yol kullanılmaz?

a. Ekle – Açıklamalar
b. Ekle – Açıklama
c. Ekle – Açık not
d. Ekle – Açık yazı



64. Standart araç çubuğunda bulunan yandaki simge seçeneklerin hangisinde doğru olarak verilmiştir?

a. Seçili Metni Keser b. Sütun yüksekliğini belirler
c. Grafik Ekler d. Yeni bir yazıcı ekler

65. Ekle-Hücreler komut satırı ile aşağıdakilerden hangisi yapılamaz?

a. Yeni bir çalışma sayfası açar. b. Yeni bir satır açar.
c. Yeni bir hücre ekler. d. Yeni bir sütun ekler.

66. Yeni ve boş bir sütun eklemek için hangisi kullanılır?

a. Ekle – Hücreler – Hücreleri Aşağı Ötele b. Ekle – Ad
c. Ekle – Sütun d. Düzen – Özel Yapıştır

67. Excel programında Çalışma sayfasını silmek için kullanılan menü aşağıdakilerden hangisidir?

a. Biçim b. Düzen c. Ekle d. Veri

68. Klavyeden yazamadığımız özel karakterler veya sembollerin eklenmesini sağlayan komut aşağıdakilerden hangisinde doğru olarak verilmiştir.

a. Satır b. Sütun c. Simge d. Açıklama



69. Ekle menüsün yer alan yan taraftaki simge hangi komutu temsil eder?

a. Hesaplama b. İşlev c. Sayfa d. Sütun




70. simge hangi komutu temsilen kullanılır?

a. Açıklama b. Açıklamalar c. Çalışma Sayfası d. Grafik

71. Köprü komutunun araç çubuğundaki simgesi aşağıdakilerden hangisinde doğru olarak verilmiştir.

Sınav Hazırlık İçin Ders Notu EXCEL SORULARI



72. Hücreye girilen sayısal ifade bu alana sığmamışsa bu hücrenin ekrandaki görüntüsü aşağıdaki maddelerden hangisinde doğru olarak verilmiştir?

- a. Sayıların bir kısmı görünmez
b. ##### ifadesi görünür
c. O hücreye sayısal ifade silinir
d. boş görünür

73. Excel çalışma sayfasına Grafik oluşturmak için hangi Menü ve Simgesi kullanılır.?



74. A ve B sütunlarının arasına boş bir sütun eklemek için nasıl bir işlem yapılmalıdır?

- a. A Sütunu seçilir Ekle – Sütun
b. B Sütunu seçilir Biçim – Sütun
c. A ve B Sütunu seçilir Ekle – Sütun
d. B Sütunu seçilir Ekle – Sütun

75. Grafik ekleme sihirbazı kaç adımdan meydana gelir.

- a. 3
b. 5
c. 4
d. 6

Hücreleri sağa sürük

Hücreleri aşağı sürük

76. Yan tarafta görülen şekildeki iki madde hangi komut içerisinde yer alır?

- a. Ekle
b. Satır
c. Hücreler
d. Sütun

77.  şekilde yansıyan harfler Excel programında neyi temsil eder?

- a. Sütunları
b. Satırlar
c. Hücreler
d. Çalışma Sayfası

78. Çalışma Sayfası, Satır, Sütun, Grafik, Açıklama gibi komutlar Excel programının hangi menüsüne ait komutlardır.

- a. Düzen
b. Ekle
c. Biçim
d. Araçlar

79. Grafik seçenekleri adımı Grafik oluştururken kaçınıcı adımda karşımıza çıkar?

- a. 2
b. 1
c. 4
d. 3

80. Ekle menüsünden eklenen satır, sütun, sayfa hangi menüden silinebilir?

- a. Dosya
b. Görünüm
c. Düzen
d. Biçim

Sınav Hazırlık İçin Ders Notu EXCEL SORULARI

81. Herhangi bir hücre ile ilgili aşağıdakilerden hangisi yapılamaz?

- a. Hücreye not girilebilir
b. Hücre biçimlendirilebilir
c. Hücre içeriği olarak resim eklenebilir
d. Hücreye Sütun ismi verilebilir

82. Excel çalışma alanında sağ tuş yapıldığında aşağıdaki komutlardan hangisi bu menüde yoktur?

- a. Kes
b. Kopyala
c. Gönder
d. Yapıştır

83. Araç çubuğun üzerindeki yazıcı simgesi hangi görevi gerçekleştirir?

- a. Baskı Önizleme
b. Tobloyu yazıcıya gönderir.
c. Rapor Hazırlar
d. Sayfa düzenini ayarlar

84. Excel programı ile ilgili aşağıdaki bilgilerden hangisi doğrudur?

- a. Satırlar harflerle ifade edilir
b. Sütunlar rakamlarla ifade edilir
c. Sütunla Satırın birleştiği yer hücre adresidir
d. Excel sayfasında satır ve sütun sayısı eşittir

85. Excel çalışma sayfasındaki hücre sayısı aşağıdaki maddelerden hangisinde doğru olarak verilmiştir?

- a. 16.777.215
b. 16.777.000
c. 16.777.256
d. 16.777.216

	A	B	
1	aksaray	1	
2	düzel	2	
3	bilgisayar	3	
4	kursu	4	
5			

86. Yan taraftaki şekilde seçili durumdaki hücre adreslerini aşağıdaki maddelerden hangisinde doğru olarak verilmiştir.

- a. A Sütunu
b. A1- B4 aralığı
c. A1-A4 aralığı
d. A1-4A aralığı

87. Excel programında bulunduğumuz B sütununun en son hücresine gitmek için hangi tuş dizilimini kullanmamız gerekir?

- a. CTRL + END
b. CTRL + HOME
c. END + YÖN TUŞU
d. ALT + CTRL

88. Excel programında bulunduğumuz 4. satırın en son hücresine gitmek için hangi tuş dizilimini kullanmamız gerekir?

- a. END + ALT
b. END + YÖN TUŞU
c. END + SHİFT
d. END + TUŞU

89. Çalışma sayfasına oluşturulmuş bir grafiğe başlık eklemem için hangi adıma girilmelidir?

- a. Konum
b. Kaynak Verisi
c. Grafik Seçenekleri
d. Grafik Türü

Sınav Hazırlık İçin Ders Notu EXCEL SORULARI

90. Menü çubuğunda grafik menüsünün çıkması için nasıl bir işlem yapılmalıdır?

- Oluşturulmuş grafik fare ile seçilmelidir
- Grafik silinmelidir
- Grafik taşınmalıdır
- Menü değiştirilmelidir.



91. DÜZEL Yan tarafta DÜZEL ismi ile yer alan dosya hangi programda oluşturulmuştur?

- Winword
- Excel
- Metin Belgesi
- Windows



92. Yan tarafta görülen simgeler Excel programının hangi Çubuğuna ait simlerdir?

- Menü çubuğu
- Durum Çubuğu
- Biçimlendirme
- Standart



93. şekilde görülen Microsoft Excel – Kitap1 isimli yazı hangi çubukta yer alır?

- Başlık Çubuğu
- Kaydırma Çubuğu
- Standart Çubuğu
- Çizim Çubuğu

	A
1	aksaray
2	düzel

94. Ok işareti ile gösterilen boş butonun görevi aşağıdakilerden hangisinde doğru olarak verilmiştir

- Sütun başı
- Satır Başı
- Tümünü Seç
- Tümünü Bul

95. Excelde herhangi bir Sütun harfinin üzerinde farenin sol tuşuna basıldığında gerçekleşen işlem hangisidir?

- Sütun Taşınır
- Sütun Seçilir
- Sütun Silinir
- Sütun Biçimlendirilir.

96. Yazıcı çıktısı alınırken Satır ve Sütun başlıklarının çıkmasını sağlayan komut ve menüsü aşağıdakilerden hangisinde doğru olarak verilmiştir.

- Dosya – Sayfa
- Dosya – Sayfa Yapısı
- Düzen – Sayfa Yapısı
- Ekle – Sayfa Yapısı

97. Yazdırma işlemini önce sağ sonra aşağı yazdırmak için hangi komut kullanılmalıdır?

- Sayfa Yapısı
- Baskı Özizleme

Sınav Hazırlık İçin Ders Notu EXCEL SORULARI

c. Yazdır

d. Gönder


98. Sayfanın Kenar Boşluklarını ayarlayabileceğim Sayfa Yapısı komutu hangi menüde yer alır?

a. Düzen

b. Biçim

c. Görünüm

d. Dosya

99.  gibi maddeler hangi komut altında yer alır.

a. Yazdır

b. Kaydet

c. Baskı Önizleme

d. Aç

100. CTRL + P tuşunun görevi aşağıdaki maddelerden hangisinde doğru olarak verilmiştir?

a. Gönder

b. Yazdır

d. Çıkış

d. Kaydet

101. Biçim Menüsü Hücreler komutunun klavyedeki kısa yolu aşağıdakilerden hangisinde doğru olarak verilmiştir?

a. CTRL + 2

b. CTRL + 1

c. CTRL + 3

d. CTRL + 5

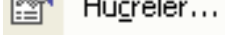
102.  Yan tarafta görülen menü çubuğu hangi komuta aittir?

a. Hücreler

b. Sütun

c. Satır

d. Yazı Tipi

103.  şekilde görülen kısa yol ve komut hangi menü içerisinde yer alır?

a. Düzen

b. Görünüm

c. Ekle

d. Biçim

104. B5 hücresine yazılmış olan bir yazının sütuna ortalanması için nasıl bir işlem gerçekleştirilmelidir?

a. Biçim – Hücreler – Hizalama – Yatay / Orta

b. Biçim – Hücreler – Hizalama – Dikey / Orta

c. Biçim – Hücreler – Hizalama – Yönlendirme / Orta

d. Biçim – Hücreler – Hizalama – Yatay – Dikey / Orta

105. A10 hücresine yazılmış olan bir yazının Satıra ortalanması için nasıl bir işlem gerçekleştirilmelidir?

a. Biçim – Hücreler – Hizalama – Yatay / Orta

b. Biçim – Hücreler – Hizalama – Dikey / Orta

c. Biçim – Hücreler – Hizalama – Yönlendirme / Orta

d. Biçim – Hücreler – Hizalama – Yatay – Dikey / Orta

106. Hücreleri Birleştir ve Ortala komutunun kısa yol simgesi aşağıdaki seçeneklerden hangisinde doğru olarak verilmiştir?

Sınav Hazırlık İçin Ders Notu EXCEL SORULARI



a.



b.



c.



d.

107. A3 ile B3 hücrelerini Birleştirmek ve Ortalamak için nasıl bir yol izlenmelidir?

- a. Biçim – Hücreler – Yazı Tipi – Hücreleri Birleştir
- b. Biçim – Hücreler – Hizalama – Dikey
- c. Biçim – Hücreler – Hizalama – Yönlendirme – Hücreleri Birleştir
- d. Biçim – Hücreler – Hizalama – Hücreleri Birleştir

108. Hücreleri Birleştir ve Ortala komutu hangi menüye ait bir komuttur?

- a. Düzen
- b. Biçim
- c. Ekle
- d. Yardım

109. Bir hücre içerisine birden fazla satır yazmak için nasıl bir işlem yapılmalıdır?

- a. Metni kaydır
- b. Uyacak Şekilde Daralt
- c. Hücreleri Birleştir
- d. Yazı Tipini Küçült

	A
1	Aksaray Düzel

110. Yukarıdaki şekilde görülen Aksaray Düzel kelimesini bir hücre içerisine yazmak için klavyedeki hangi tuştan faydalanabiliriz?

- a. CTRL
- b. SHIFT
- c. SPACE
- d. ALT

111. A1 hücresine yazılmış olan DÜZEL kelimesini +90 derece eğimle ekrana yansıtmak için hangi işlem yapılmalıdır?

- a. Hücre seçilir – Biçim – Hizalama – Dikey - +90
- b. Hücre seçilir – Biçim – Hizalama – Yönlendirme +90
- c. Hücre seçilir – Biçim – Yatay – Hizalama +90
- d. Hücre seçilir – Biçim – Hizalama – Yatay

	A
1	DÜZEL

112. Yukarıdaki şekilde görülen DÜZEL kelimesi A1 hücresine kaç derece eğimle yazılmıştır?

- a. +90
- b. -90
- c. -45
- d. +45

113. A4 hücresine yazılmış olana Milli Eğitim Müdürlüğü kelimelerinin A4 hücre sınırları içinde kalması diğer hücelere taşmaması için ne yapılmalıdır?

- a. Hücreler Birleştirilmelidir
- b. Uyacak Şekilde Daralt
- c. Metni Kaydır
- d. Eğim Verilmelidir

114. Aşağıda yazılı maddelerden hangisi Biçim – Hizalama menü seçeneklerinden değildir?

Sınav Hazırlık İçin Ders Notu EXCEL SORULARI

a. Metin Hizalama
c. Yazı Tipi

b. Yönlendirme
d. Metin Denetimi

115. yan tarafta görülen şekil Hücreler komutunun hangi menüsüne aittir?

a. Hizalama b. Yazı Tipi c. Desenler d. Kenarlık

116. A10 hücresine yazılmış olan bir kelimenin Kalın olarak belirtilmesi için nasıl bir işlem yapılmalıdır?

a. Biçim – Hücreler – Yazı Tipi – Boyut
b. Biçim – Hücreler – Yazı Tipi – Yazı Tipi
c. Biçim – Hücreler – Kenarlık – Kalın
d. Biçim – Hücreler – Yazı Tipi – Yazı Tipi Stili

117. şekilde görülen simgenin açılımı nedir?

a. Yazı Tipi Stili
b. Kalın
c. Koyu
d. Yazı Tipi

118. Hücre içerisine yazılmış bir yazının sağa yaslanması için aşağıdaki kısayollarda hangisi kullanılmalıdır?

a. b. c. d.

119. Hücre içerisindeki yazıyı renk yapmak için hangi yol uygulanmalıdır?

a. Yazı Tipi - Boyut b. Yazı Tipi – Renk
c. Hizalama – Renk d. Biçim – Renk

120. Yan taraftaki şekilde görülen simgenin görevi nedir?

a. Yazı Rengi b. Zemin Rengi c. Sütun Rengi d. Satır Rengi

121. şekilde görülen komutların menüdeki yeri aşağıdaki maddelerden hangisinde doğru olarak verilmiştir?

a. Biçim – Sütun b. Biçim – Sayfa c. Biçim – Hücreler d. Biçim- Satır

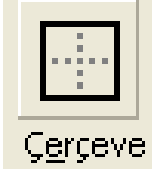
122. şekilde görülen komutları sıra ile açılımı aşağıdaki maddelerden hangisinde doğru olarak verilmiştir?

Sınav Hazırlık İçin Ders Notu
EXCEL SORULARI

- a. Kalın – İtalik – Renk
b. İtalik – Koyu – Alt Çizgi
c. Koyu – İtalik – Alt Çizgi
d. Kalın – İtalik – Alt Çizgi

123. Biçim Menüsü Hücreler komutlarının kısa yolları hangi araç çubuğu üzerinde yer alır?

- a. Standart
b. Biçimlendirme
c. Çizim
d. Durum Çubuğu



124. Çerçeve şeklinde görülen buton hangi menüde yer alır?

- a. Desenler
b. Kenarlık
c. Yazı Tipi
d. Çerçeve

125. Seçili hücelere kenarlık veren komutun kısa yolu aşağıdaki maddelerden hangisinde doğru olarak verilmiştir?



126. Seçili hücreye kenarlık eklemek için izlenen yol aşağıdaki maddelerden hangisinde doğru olarak verilmiştir?

- a. Biçim – Hücreler – Hizalama – Kenarlık
b. Biçim – Hücreler – Yazı Tipi
c. Biçim – Hücreler – Çerçeve
d. Biçim – Hücreler – Kenarlık

127. A2 hücresi ve A3 hücrelerine kenarlık vermeden önceki işlem aşağıdaki seçeneklerden hangisinde doğru verilmiştir

- a. A2 hücresi seçilir
b. A3 hücresi seçilir
c. A2 ve A3 hücreleri seçilir
d. A Sütunu seçilir

128. C15 hücresinin zemin rengini değiştirmek için izlenecek yol aşağıdaki seçeneklerden hangisinde doğru olarak verilmiştir?

- a. Biçim – Hücreler – Zemin Rengi
b. Biçim – Hücreler – Desenler
c. Biçim – Sütun – Desenler
d. Biçim – Yazı Tipi – Desenler

129. Aşağıdaki seçeneklerden hangisi hücreye Dolgu (Zemin) rengini veren komutun kısa yol simgesidir?



130. Dolgu renki komutunun kısa yol simgesi hangi Araç çubuklarında kısa yolları mevcuttur?

Sınav Hazırlık İçin Ders Notu EXCEL SORULARI

- Çizim – Standart Araç Çubuklarında
- Standart – Menü Araç Çubuklarında
- Biçimlendirme – Çizim Araç Çubuklarında
- Çizim – Durum Araç Çubuklarında




131. Yandaki simgenin Excel Programındaki görevi nedir?

- Resim Eklemeye Yarar
- Seçilen hücrelerdeki değerlere para birimi ekler
- Para resmi eklemeye yarar
- Seçilen hücrelerdeki değeri \$ yapar



132. Yandaki simgenin Excel Programındaki görevi nedir?

- Sayfaya % işareti eklemeye yarar
- Yapılan işlemlerin doğruluk oranlarını gösterir.
- Hücredeki değeri yüzde oranına dönüştürür
- Sayfanın yaklaşma yüzdesini gösterir.



133. Yandaki simgenin Excel Programındaki görevi nedir?

- Ondalık Arttır – Ondalık Azalt
- Ondalık Azalt – Ondalık Arttır
- Binlik Ayırıcı – Yüzde oranı
- Yüzde Oranı – Binlik Ayırıcı

134. Aşağıdaki seçeneklerin hangisinde Binlik Ayırıcının kısa yolu doğru olarak verilmiştir?



135. Yandaki simgelerin görevlerini sıra ile yazınız?

- Yazdır – Baskı Ön izleme – Yazım ve Dilbilgisi – Kopyala – Kes – Yapıştır
- Yazdır – Baskı Ön izleme – Yazım ve Dilbilgisi – Kes – Kopyala – Yapıştır
- Yazdır – Yazım ve Dilbilgisi – Baskı Ön izleme – Kopyala – Yapıştır – Kes
- Yazdır – Yazım ve Dilbilgisi – Baskı Ön izleme – Kes – Kopyala – Yapıştır

136. Excel Çalışma sayfasındaki standart satır yüksekliği aşağıdaki maddelerden hangisinde doğru olarak verilmiştir?

- 12,75
- 12,50
- 12,00
- 12,25

137. Çalışma sayfasında bir satırın yüksekliğini en fazla kaç olmalıdır?

- 405
- 408
- 409
- 400

138. 5 numaralı satırı gizlemek için hangi menü ve komutu kullanılmalıdır?

- Biçim – Hücreler
- Ekle - Satır
- Biçim – Yazı Tipi
- Biçim – Satır

Sınav Hazırlık İçin Ders Notu
EXCEL SORULARI

139. Biçim – Satır – En Uygun Yükseklik seçeneği aşağıdaki işlemlerden hangisini yapar?

- a. Satır yüksekliğini hücrede bulunan yazıya göre ayarlar
- b. Satır yüksekliğini daraltır ve yazıyı buraya sıkıştırarak sığdırır
- c. Satır gizler
- d. Satırı gösterir.

140. Biçim – Hücreler – Hizalama ile yapılan işlem aşağıdakilerden hangisidir?

- a. Sayı ve zaman ile ilgili biçimleri düzenler
- b. Hücre içindeki bilginin yatay veya dikey yerleştirilmesini sağlar
- c. Bloklanmış bir belgeyi seçilen bir desen ile doldurmayı sağlar
- d. Font seçimi, stili, karakter büyüklüğü ile ilgili işlemleri yapar

141. Biçim – Hücreler – Desen komut dizisinin görevi aşağıdaki maddelerden hangisinde doğru olarak verilmiştir?

- a. Hücre içeriğini biçimlendirir
- b. Hücreyi boyutlandırır
- c. Hücreye renk verir
- d. Hücreye koruma verir

142. Aşağıdaki maddelerden hangisi Excel de Biçim menüsünde bulunan hücreler seçeneğinde yer alır?

- a. Hizalama
- b. Süzme
- c. Baskı Önizleme
- d. Sıralama

143.  **Yükseklik...** Şekilde görülen Simge ve Açılımı hangi menü ve komuta aittir?

- a. Biçim – Sütun
- b. Biçim – Satır
- c. Biçim – Hücreler
- d. Biçim – Sayfa

144. Excel Çalışma sayfasındaki standart sütun genişliği aşağıdaki maddelerden hangisinde doğru olarak verilmiştir?

- a. 8,50
- b. 8,23
- c. 8,73
- d. 8,43

145. B sütununun gizlenmesi için hangi menü ve komutu kullanılmalıdır?

- a. Biçim – Sütun – Gizle
- b. Biçim – Satır – Gizle
- c. Ekle – Sütun – Gizle
- d. Düzen – Sütun – Gizle

146.  **Genişlik...** Şekilde görülen Simge ve Açılımı hangi menü ve komuta aittir?

- a. Biçim – Sütun
- b. Biçim – Satır
- c. Biçim – Hücreler
- d. Biçim – Sayfa

147. Aşağıdakilerden hangisi çalışma kitabına çalışma sayfası ekler?

- a. Ekle – Çalışma
- b. Biçim – Sayfa
- c. Ekle – Çalışma Sayfası
- d. Veri – Çalışma – Sayfa

148. Aşağıdakilerden hangisi Biçim – Hücreler penceresindeki seçeneklerden değildir?

- a. Sayı
- b. Gölgeleme
- c. Hizalama
- d. Desenler

149. Sayfayı yeniden adlandırmak için aşağıda verilen yollardan hangisi doğrudur?

Sınav Hazırlık İçin Ders Notu

EXCEL SORULARI

- a. Biçim – Sayfa – Adlandır
b. Biçim – Sayfa – Yeniden Adlandır
c. Ekle – Sayfa – Yeniden Adlandır
d. Düzen – Sayfa – Yeniden Adlandır

150. Hücelere Otomatik biçim yansıtmak için öncelikle yapılması gereken işlem aşağıdakilerden hangisinde doğru olarak verilmiştir?

- a. Biçimlendirilecek Hücreler Seçilir
b. Biçimlendirilecek Hücreler Toplanır
c. Biçimlendirilecek Hücreler Hesaplanır
d. Biçimlendirilecek Hücreler Eşitlenir

151. Biçim –Sütun – En Uygun Genişlik seçeneği aşağıdaki işlemlerden hangisini yapar?

- a. Satır yüksekliğini daraltır ve yazıyı buraya sıkıştırarak sığdırır
b. Sütun genişliğini hücrede bulunan yazıya göre ayarlar
c. Satır gizler
d. Satırı gösterir.



152. Excel de yandaki düğmenin görevi aşağıdakilerden hangisinde doğru olarak yansıtılmıştır?

- a. Satır/sütunları otomatik toplar.
b. Hücrelerdeki bilgiyi altı çizgili yapar.
c. Yeni bir excel satırı ekler.
d. Yeni bir excel sütunu ekler.



153. Excel programında yandaki listede yer alan maddeler hangi komuta aittir.

- a. Biçim – Hücreler
b. Biçim – Sayfa
c. Biçim – Satır
d. Biçim – Sütun

154. Aşağıdaki ifadelerden hangisi Excel programı için geçerli bir tanımdır?

- a. kelime işlem programıdır
b. bellek hizmet programıdır
c. Tablo çizim programıdır
d. işletim sistemidir


155. Sıralı olmayan hücreleri seçmek için aşağıdaki yollardan hangisi kullanılmalıdır?

- a. Shift tuşu basılı tutularak hücelere tıklanır
b. Ctrl tuşu basılı tutularak hücelere tıklanır
c. Alt tuşu basılı tutularak hücelere tıklanır
d. Enter tuşu basılı tutularak hücelere tıklanır

Sınav Hazırlık İçin Ders Notu EXCEL SORULARI

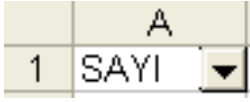
156. Yazım klavuzu komutunun kısa yolu aşağıdakilerden hangisidir?



157.  Yandaki düğmelerin görevi sırası ile nedir?

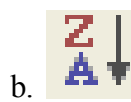
- a. Artan sıralama – Azalan sıralama
c. Numaralandırma – Madde imleri

- b. Azalan sıralama – Artan sıralama
d. Madde imleri – Numaralandırma

158.  A1 hücresindeki özellik aşağıdaki maddelerden hangisinde doğru olarak verilmiştir?

- a. Sırala b. Otomatik Söz c. Otomatik Süz d. Otomatik Biçim

159. Azalan sıralamanın sembolü aşağıdaki şıklardan hangisinde doğru olarak belirtilmiştir?



160. Kısa yolu F7 olan komutu aşağıdakilerden hangisidir?

- a. Yazım Kontrolü b. Dilbilgisi Klavuzu c. Harf Denetimi d. Yazım Klavuzu

161. Microsoft Excel programında yardım almamızı sağlayan klavye kısa yolu hangisidir?

- a. F3 b. F1 c. F2 d. F4



Yandaki düğmenin Excel Programındaki fonksiyonun aşağıdaki maddelerden hangisinde doğru olarak verilmiştir.

- a. Yardım b. İmdat c. Help d. SOS

163. Formül hangi işaretle başlar?

- a. ? b. > c. = d. /

164. B9 hücresindeki bir sayının %80'ini hesaplayan formül aşağıdakilerden hangisidir?

- a. =(B9*80)/100 b. B9*100/80 c. =(B9*100)*80 d. =(B9+100/80)

165. Hücrelerde yazılı olan rakamlardan en büyük sayıyı bulan komut aşağıdakilerden hangisinde doğru olarak verilmiştir?

- a. Min b. En c. Max d. Mak

Sınav Hazırlık İçin Ders Notu

EXCEL SORULARI

166. =Topla(E4:E7) formülünün açılımı aşağıdaki maddelerden hangisinde doğru olarak verilmiştir?

- E4 hücresi ile E7 hücrelerini toplar
- E4 ile E7 arasındaki hücrelerini toplar
- E4 ve E7 hariç diğer ara hücreleri toplar
- E4 ile E7 hücrelerinin ortalaması hesaplanır

167. B1 hücresine =A1+C2 yazdıktan sonra klavyeden ESC tuşuna basıldığında oluşan sonuç aşağıdakilerden hangisidir?

- Yazdıklarımız iptal edilir
- Yazıcıya gönderilir
- Yazılar kaydedilir
- Yazılar kopyalanır

168. B2 hücresindeki 25 sayısı ile C2 hücresindeki 15 sayılarının ortalamasını bulan formül aşağıdaki maddelerden hangisinde doğru olarak verilmiştir?

- $(B2*C2)/100$
- $=B2/C2*100$
- $=(B2+C2)/2$
- $(B2+C2)/2$

169. $=(C2*50)/100$ formülünün açılımı aşağıdaki maddelerden hangisinde doğru olarak verilmiştir?

- C2 hücresindeki rakamın %50 sini bulan formül
- C2 hücresindeki rakamın çeyreğini bulan formül
- C2 hücresindeki rakamın 50 ye bölünmesini sağlayan formül
- C2 hücresindeki rakamın ortalamasını bulan formül

170. 75 ve 100 rakamlarının farkını bulan formül seçeneklerin hangisinde doğru verilmiştir?

- $=75*100$
- $=75-100$
- $75/100$
- $=75/100$

171. B6 C6 D6 E6 hücrelerinde yazılı rakamların otomatik toplamını ekrana yansıtan kısa yol araç çubuğu aşağıdaki maddelerden hangisinde doğru olarak verilmiştir?

- 
- 
- 
- 

172. A1 hücresindeki 75 rakamın %70'i ile B2 hücresindeki 85 rakamlarının %30 bulan formülü aynı hücre içerisinde yansıtmak için hangi yol uygulanmalıdır?

- $=(A1*70)/100+(B2*30)/100$
- $=(A1+70)/100+(B2*30)/100$
- $(A1*70)/100=(B2*30)*100$
- $=(A1*70)/100=(B2*30)/100$

173. E1 hücresindeki =A1+C1 formülü E3 hücresine kopyalandığında sonuç aşağıdakilerden hangisinde doğrudur?

- $=(E1+C3)$
- A1+C1
- A3+C3
- $=A3+C3$

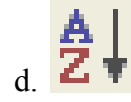
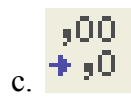
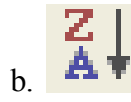
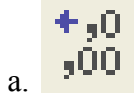
174. A10 hücresine =A2 yazıldığında nasıl bir işlem gerçekleştirilmiş olur?

- A10 hücresine A2 hücresindeki ifadenin aynısı yazılmış olur

Sınav Hazırlık İçin Ders Notu EXCEL SORULARI

- b. A2 hücresine A10 hücresindeki ifadenin aynısı yazılmış olur
- c. A10 hücresine A2 hücresindeki ifade taşınır
- d. A10 hücresine A2 hücresindeki ifade toplanır

175. A1 hücresinde yazılı olan 125,00 rakamından ondalık azaltmak için hangi simge kullanılır?



176. =TOPLA(B2;B7) formülün açılımı aşağıdaki maddelerden hangisinde doğru olarak verilmiştir?

- a. B2 ile B7 arasındaki sayıların toplamını alır
- b. Sadece B2 ve B7 hücrelerinin toplamını alır
- c. B3, B4, B5, B6 hücrelerinin toplamını alır
- d. B2 ve B7 hücrelerinin ortalamasını alır

177. Hücrelerde yazılı olan rakamlardan en küçük sayıyı bulan komut aşağıdakilerden hangisinde doğru olarak verilmiştir?

- a. Min
- b. En
- c. Max
- d. Mak

178. A5 hücresindeki 250 rakamının %25'ini bulan formül aşağıdaki seçeneklerden hangisinde doğru olarak verilmiştir?

- a. (A5*25)100
- b. =(A5/25)*100
- c. =(A5*25)/100
- d. =(A5+25)/100

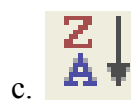
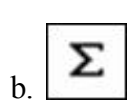
179. Yan yana olmayan birden çok Sütunu seçmek için klavyedeki hangi tuştan faydalanabiliriz?

- a. ALT
- b. SHIFT
- c. ENTER
- d. CTRL

180. Çalışma kitabının tümünü seçmek için nasıl bir işlem yapılmalıdır?

- a. Düzen Menüsü Tümünü Seç komutu
- b. Çalışma sayfasının üzerinde iken sağ tuş seç
- c. Sayfa adı üzerinde iken farenin sağ düğmesi Tüm Sayfaları Seç
- d. Ekle Menüsü Tümünü Seç komutu

181. A5 hücresindeki 25 sayısına para birimini aktarmak için araç çubuklarından hangi simge kullanılmalıdır?



182. C3 hücresindeki 150 rakamına para birimi yansıtıldığında sonuç aşağıdakilerden hangisinde doğru olarak verilmiştir.

- a. 150 TL
- b. 150,00 TL
- c. 150.00
- d. 150,000 TL

Sınav Hazırlık İçin Ders Notu
EXCEL SORULARI

183. D10 hücresindeki 500 rakamına %20 sini ekleyen formül aşağıdakilerden hangisidir?

- a. =(D10*20)/100+D10
b. (D10*20)/100=D2
c. =(D10/20)/100+D10
d. =(D10*20)+100/D2

184. A Sütünü 5 numaralı Satırın kesiştiği alana ne ad verilir?

- a. 5A Hücre adresi b. A5 Hücre adresi c. A Sütünü d. 5. Satır

185. Oluşturulan veri tablosundaki bilgileri isteğe uygun olarak sınıflandırmak için aşağıdakilerden hangisi kullanılır?

- a. Veri – Sırala – Otomatik Sırala b. Ekle – Sırala
c. Veri - Süz – Otomatik Süz d. Veri – Bul

186. Bir alanı tanımladıktan sonra silmeden hafızaya alan komutun kısa yolu aşağıdaki maddelerden hangisinde doğru olarak verilmiştir?


- a. CTRL + Z b. CTRL + B c. CTRL + X d. CTRL + C



187. Standart araç çubuğunda yer alan yandaki düğme hangi araç çubuğunun ekranda görünmesi sağlar.

- a. Durum Çubuğu b. Başlık Çubuğu
c. Çizim Çubuğu d. Biçimlendirme Araç Çubuğu


188. Aşağıdaki düğmelerden hangisini kullanarak çizime 3 Boyut ayarlarını verebiliriz?




189. Excel programında yazılmış metni yazıcıdan almak için kullanılan kısa yollardan hangisi doğrudur?

- a. CTRL + Z b. Dosya Menüsü – Sayfa Yapısı
c. Standart Çubuğundaki  d. Düzen Menüsü – Yazdır

190. Excel programının simgesi aşağıdaki maddelerin hangisinde doğru olarak verilmiştir?



191.  =A3+C3 yandaki şekilde yazılı olan ifadelerin bulunduğu çubuğun adı aşağıdakilerden hangisinde doğru olarak verilmiştir?

- a. Durum Çubuğu b. Çizim Çubuğu c. Başlık Çubuğu d. Formül Çubuğu

192. Klavyeden CTRL + N tuşuna basıldığında hangi işlem gerçekleşir?

Sınav Hazırlık İçin Ders Notu

EXCEL SORULARI

- a. Yeni Dosya Açılır
c. Dosyayı Kaydet komutu

- b. Kayıtlı Dosyayı Ekranı Getirir
d. Dosyayı Yazıcıya Gönderir

193. Daha önce kaydedilen dosyaları açan komutun kısa yolu aşağıdaki maddelerden hangisinde doğru olarak verilmiştir?

- a. CTRL + B b. CTRL + Z c. CTRL + O d. CTRL + P


194.  şekilde görülenler hangi çubuğa aittir?

- a. Başlık Çubuğu b. Menü Çubuğu c. Durum Çubuğu d. Çizim Çubuğu

195. XLS uzantısı hangi ofis programında uzantı olarak verilir?

- a. Word b. Excel
c. Paint d. Not Defteri

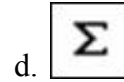

196. Aşağıdakilerden hangisi Excel programını kapatmak için kullanılan düğmedir?

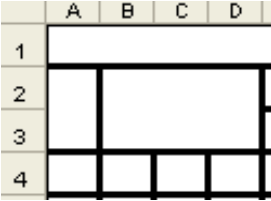


197. Kes komutu için, klavyeden CTRL tuşu basılı iken X harfine basarak ne kullanmış oluruz?

- a. Menü b. Kısa yol tuşu
c. Başlık Çubuğu d. Araç Çubuğu

198. Biçim Boyacısı komutunun kısa yol simgesi aşağıdaki maddelerden hangisinde doğru olarak verilmiştir?



199.  şekilde görülen hücre birleştirmelerinden hangisi yanlıştır?

- a. A1 ile D1 b. A2 ile A3 c. B2 ile D4 d. B2 ile D3

200. B2 hücresinde 100, B4 hücresinde 200, B6 hücresinde 300 rakamlarının ortalamasını bulan formül aşağıdaki maddelerden hangisinde doğru olarak verilmiştir?

- a. $b2+B4+B6 /3$ b. $=(B2+B4+B6)/3$ c. $=(B2+B4+B7)/2$ d. $=B2+B4+B6*3$